
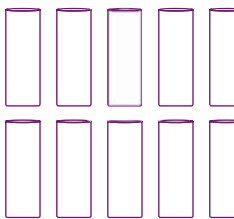


1 Hoeveel glazen of kopjes kun je vullen?

Kleur ze.

a  



1 liter 200 ml

b  

1 liter 100 ml

c  

1 liter 250 ml

d  

1 liter 125 ml

2 Teken het goede aantal.

Kijk wat je moet betalen en hoeveel je daarvoor krijgt.

a € 1 per stuk

Hoeveel rozen koop je voor € 6 ?

											
---	--	--	--	--	--	--	--	--	--	--	--


b € 3 per stuk

Hoeveel autootjes koop je voor € 21 ?

											
---	--	--	--	--	--	--	--	--	--	--	--

c € 6 per stuk

Hoeveel LEGO-dozen koop je voor € 30 ?

											
---	--	--	--	--	--	--	--	--	--	--	--

d € 7 per stuk

Hoeveel shirts koop je voor € 56 ?

											
---	--	--	--	--	--	--	--	--	--	--	--

1 Reken uit op je eigen manier.

- a $35 + 23 =$ b $26 + 37 =$ c $243 + 236 =$ d $364 + 123 =$
 $220 + 310 =$ $84 - 49 =$ $375 - 143 =$ $657 - 215 =$

2 Vul in.



- a Lieke koopt van alle 3 de goedkoopste.
Schaatsen voor € ... , een jack voor € ... en een muts voor € ...
Dat kost Lieke samen €
- b Laura koopt van alle 3 de duurste.
Schaatsen voor € ... , een jack voor € ... en een muts voor €
Dat kost Laura samen €
Laura betaalt € ... meer dan Lieke.
- c Reken eerst vraag a en b uit.
Fatima koopt ook een muts, jack en schaatsen. Ze doet het anders dan Lieke en Laura.
Een muts voor € ... , een jack voor € ... en schaatsen voor €
Dat kost Fatima samen €
Fatima betaalt € ... minder dan Laura uit vraag b en € ... meer dan Lieke uit vraag a.

3 Grote en kleine getallen.

515	609	599	300
690	503	349	617
350	315	600	530
671	551	399	590

- a Zet een streep onder het kleinste getal.
b Zet een kring om het grootste getal.
c Kleur de vakken met de grootste 4 getallen groen.
d Kleur de vakken met de kleinste 6 getallen geel.